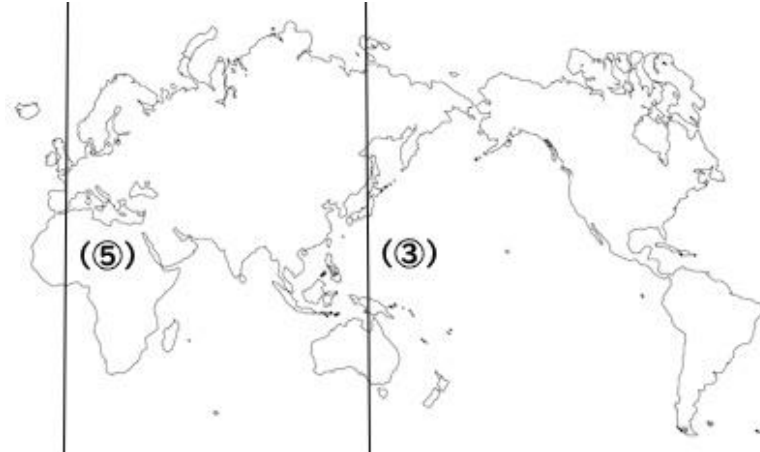


地理

③ 日本のすがた

(1) 日本の地域

1. 日本は(①)大陸の東側に属していて、その東側には(②)と呼ばれる海洋が広がっている。

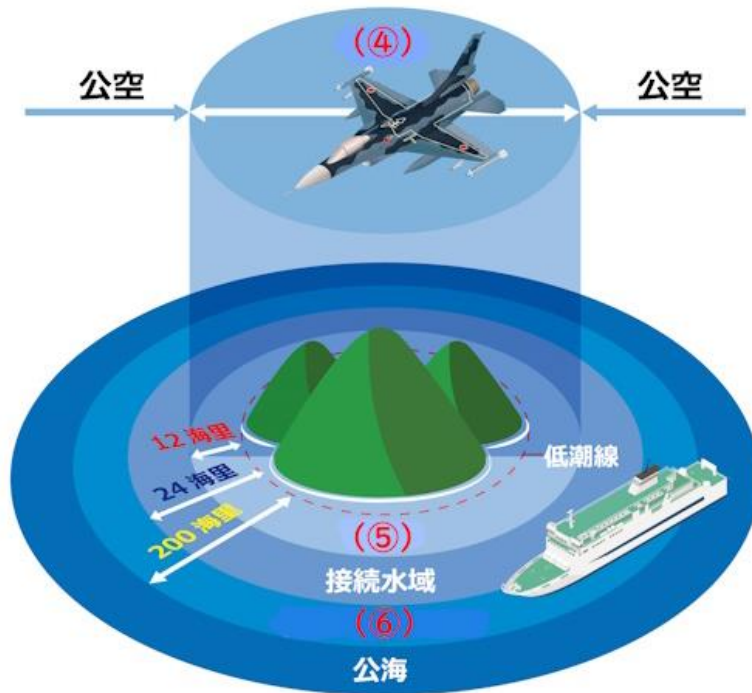


2. 日本の国の時刻の基準となる子午線を何というか。(③)兵庫県明石市を通る日本の時刻を定めているこの子午線は何度か。(④)  
経度を求めるときの基準にし、世界時の基準にもなる経度0度の子午線は何か。(⑤)
3. 経度15度ごとに何時間の時差があるか。(⑥)太平洋上にある、180度の経線を何というか。(⑦)
4. 日本が8月10日午後1時のとき、パリ(東経15度)(⑧)、ロサンゼルス(西経120度)(⑨)は何月何日何時か。
5. 日本列島の国土面積はおよそ何万平方キロメートルか。(⑩)
6. 日本の最北端の島(⑪)、日本の最南端の島(⑫)、日本の最東端の島(⑬)、日本の最西端の島(⑭)はそれぞれ何か。
7. 現在ロシアが占拠している日本の領土を何というか。(⑮)  
その4つの島をそれぞれ答えよ。(⑯)、(⑰)、(⑱)、(⑲)

問題	解答	問題	解答	問題	解答
①		⑧		⑮	
②		⑨		⑯	
③		⑩		⑰	
④		⑪		⑱	
⑤		⑫		⑲	
⑥		⑬			
⑦		⑭			

(2) 日本の領域

1. 日本の領域：(①)・(②)・(③)からなる国家の主権が及ぶ範囲。

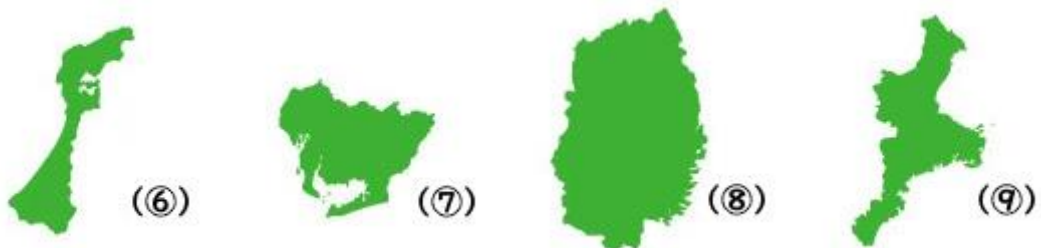


2. 公空に対して自国の空を(④)、公海に対して海岸線から12海里までの自国の海を(⑤)。水産資源や鉱山資源を沿岸国が管理できる200海里までの海を(⑥)という。

問題	解答	問題	解答
①		④	
②		⑤	
③		⑥	

(3) 都道府県①

1. 日本には全部で(①)の都道府県があり、そのうち「道」が付くのは(②)、「府」が付くのは(③)と(④)である。  
 2. 都道府県の政治の中心的役割を担っている場所で、県庁がおかれている都市を(⑤)という。





3. 上記の図で表した県の名前とその県庁が置かれている都市名をそれぞれ答えよ。

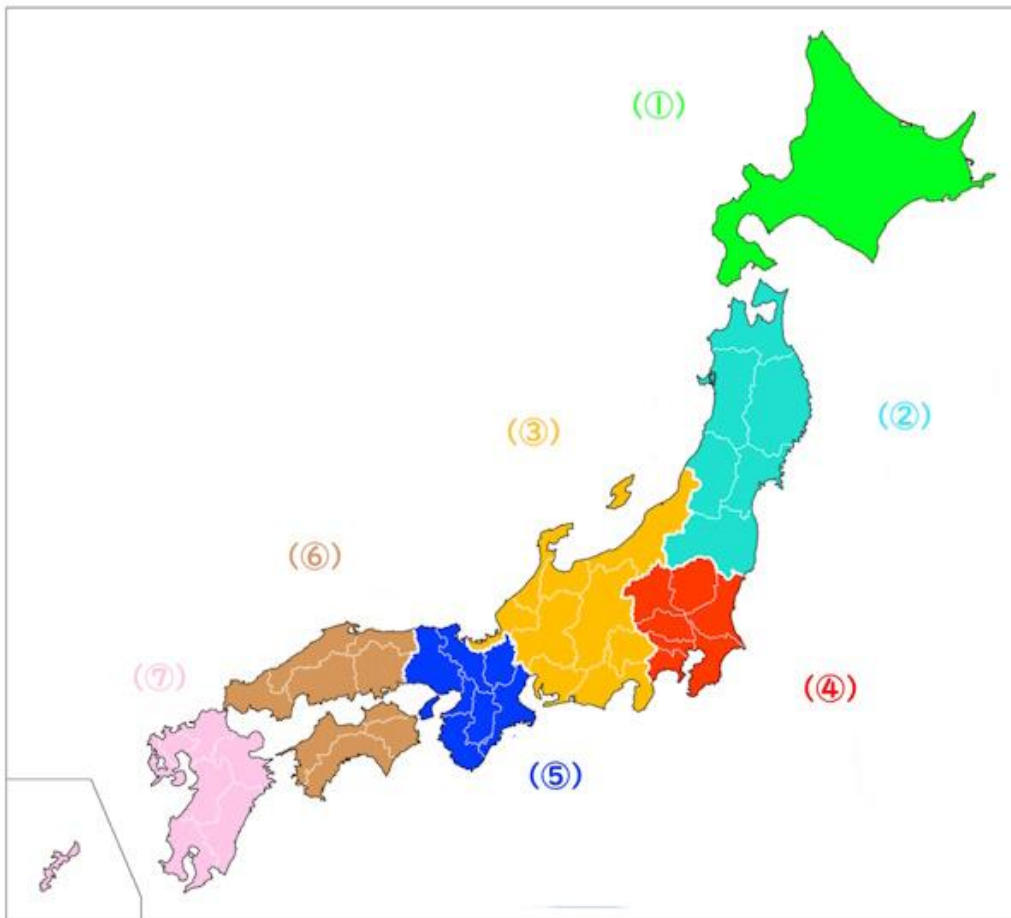
問題	解答	問題	解答
①		⑦	
②		⑧	
③		⑨	
④		⑩	
⑤		⑪	
⑥		⑫	

(4) 都道府県②

- 北海道に次いで面積の大きい都道府県は(①)で、一番小さな都道府県は(②)である。内陸県(海なし県)は、(③)、(④)、(⑤)、(⑥)、(⑦)、(⑧)、(⑨)、滋賀県の8県。
- 都道府県のうち、人口が一番多いのは(⑩)二番目は(⑪)。人口が一番少ないのは(⑫)二番目は(⑬)。
- 歴史的事実や国際法上も日本固有の領土だが、現在韓国が占拠しているのは、男島と女島からなる(⑭)。属している都道府県は(⑮)。

問題	解答	問題	解答	問題	解答
①		⑦		⑬	
②		⑧		⑭	
③		⑨		⑮	
④		⑩			
⑤		⑪			
⑥		⑫			

(5) 地域区分



1. 日本を上図のように7つの地方に区分した場合、それぞれ7つの地方をそれぞれ答えよ。
2. 7つの地方のうち、一番県の数が多いのは(⑧)と(⑨)。どちらも9つの都道府県が含まれる。

問題	解答	問題	解答	問題	解答
①		④		⑦	
②		⑤		⑧	
③		⑥		⑨	